

Series P2QRS/2

Set-1

प्रश्न-पत्र कोड  
Q.P. Code

59/2/1

रोल नं.

Roll No.

--	--	--	--	--	--	--	--



परीक्षार्थी प्रश्न-पत्र कोड को उत्तर-पुस्तिका के मुख-पृष्ठ पर अवश्य लिखें।

Candidates must write the Q.P. Code on the title page of the answer-book.

## राजनीति विज्ञान

## POLITICAL SCIENCE

निर्धारित समय : 3 घण्टे

अधिकतम अंक : 80

Time allowed : 3 hours

Maximum Marks : 80

नोट	NOTE
(I) कृपया जाँच कर लें कि इस प्रश्न-पत्र में मुद्रित पृष्ठ 23 हैं।	(I) Please check that this question paper contains 23 printed pages.
(II) कृपया जाँच कर लें कि इस प्रश्न-पत्र में 30 प्रश्न हैं।	(II) Please check that this question paper contains 30 questions.
(III) प्रश्न-पत्र में दाहिने हाथ की ओर दिए गए प्रश्न-पत्र कोड को परीक्षार्थी उत्तर-पुस्तिका के मुख-पृष्ठ पर लिखें।	(III) Q.P. Code given on the right hand side of the question paper should be written on the title page of the answer-book by the candidate.
(IV) कृपया प्रश्न का उत्तर लिखना शुरू करने से पहले, उत्तर-पुस्तिका में प्रश्न का क्रमांक अवश्य लिखें।	(IV) Please write down the serial number of the question in the answer-book before attempting it.
(V) इस प्रश्न-पत्र को पढ़ने के लिए 15 मिनट का समय दिया गया है। प्रश्न-पत्र का वितरण पूर्वाह्न में 10.15 बजे किया जाएगा। 10.15 बजे से 10.30 बजे तक छात्र केवल प्रश्न-पत्र को पढ़ेंगे और इस अवधि के दौरान वे उत्तर-पुस्तिका पर कोई उत्तर नहीं लिखेंगे।	(V) 15 minute time has been allotted to read this question paper. The question paper will be distributed at 10.15 a.m. From 10.15 a.m. to 10.30 a.m., the students will read the question paper only and will not write any answer on the answer-book during this period.

### सामान्य निर्देश:

निम्नलिखित निर्देशों को बहुत सावधानी से पढ़िए और उनका पालन कीजिए :

- (i) इस प्रश्न-पत्र में 30 प्रश्न हैं। सभी प्रश्न अनिवार्य हैं।
- (ii) प्रश्न-पत्र पाँच खण्डों में विभाजित है - खण्ड क, ख, ग, घ एवं ङ।
- (iii) खण्ड क - प्रश्न संख्या 1 से 12 तक बहुविकल्पीय प्रकार के प्रश्न हैं। प्रत्येक प्रश्न 1 अंक का है।
- (iv) खण्ड ख - प्रश्न संख्या 13 से 18 तक लघु-उत्तरीय प्रकार के प्रश्न हैं। प्रत्येक प्रश्न 2 अंकों का है। प्रत्येक प्रश्न का उत्तर 50 से 60 शब्दों में लिखिए।
- (v) खण्ड ग - प्रश्न संख्या 19 से 23 तक दीर्घ-उत्तरीय प्रकार-I के प्रश्न हैं। प्रत्येक प्रश्न 4 अंकों का है। प्रत्येक प्रश्न का उत्तर 100 से 120 शब्दों में लिखिए।
- (vi) खण्ड घ - प्रश्न संख्या 24 से 26 अवतरण, कार्टून तथा मानचित्र-आधारित प्रश्न हैं। प्रत्येक प्रश्न का उत्तर यथानुसार लिखिए।
- (vii) खण्ड ङ - प्रश्न संख्या 27 से 30 तक दीर्घ-उत्तरीय प्रकार-II के प्रश्न हैं। प्रत्येक प्रश्न 6 अंकों का है। प्रत्येक प्रश्न का उत्तर 170 से 180 शब्दों में लिखिए।
- (viii) प्रश्न-पत्र में कोई समग्र विकल्प नहीं है। यद्यपि कुछ प्रश्नों में आंतरिक विकल्प का प्रावधान दिया गया है। इन प्रश्नों में से केवल एक ही प्रश्न का उत्तर लिखा जाए।
- (ix) इसके अतिरिक्त, ध्यान दें कि दृष्टिबाधित परीक्षार्थियों के लिए फोटो तथा मानचित्र आदि आधारित प्रश्नों के स्थान पर एक अन्य प्रश्न दिया गया है। इन प्रश्नों के उत्तर केवल दृष्टिबाधित परीक्षार्थी ही लिखें।

### खण्ड क

प्रश्न संख्या 1 से 12 तक बहुविकल्पीय प्रकार के 1 अंक के प्रश्न हैं।

12×1=12

1. निम्नलिखित घटनाओं को कालक्रमानुसार व्यवस्थित कीजिए :

- (i) अफगानिस्तान पर सोवियत संघ का आक्रमण
- (ii) रूस की क्रांति
- (iii) ताजिकिस्तान में गृहयुद्ध का अन्त
- (iv) बर्लिन की दीवार का गिरना

सही विकल्प चुनिए :

- (A) (i), (ii), (iii), (iv)
- (B) (ii), (i), (iv), (iii)
- (C) (iii), (iv), (i), (ii)
- (D) (iv), (iii), (ii), (i)

### **General Instructions :**

*Read the following instructions very carefully and follow them :*

- (i) *This question paper contains **30** questions. **All** questions are **compulsory**.*
- (ii) *Question paper is divided into **five** sections – **Sections A, B, C, D and E**.*
- (iii) ***Section A** – questions number **1 to 12** are Multiple Choice type questions. Each question carries **1** mark.*
- (iv) ***Section B** – questions number **13 to 18** are Short Answer type questions. Each question carries **2** marks. Write answer to each question in **50 to 60** words.*
- (v) ***Section C** – questions number **19 to 23** are Long Answer type-I questions. Each question carries **4** marks. Write answer to each question in **100 to 120** words.*
- (vi) ***Section D** – questions number **24 to 26** are Passage, Cartoon and Map-based questions. Answer each question accordingly.*
- (vii) ***Section E** – questions number **27 to 30** are Long Answer type-II questions. Each question carries **6** marks. Write answer to each question in **170 to 180** words.*
- (viii) *There is no overall choice in the question paper. However, an internal choice has been provided in few questions. Only **one** of the choices in such questions has to be attempted.*
- (ix) *In addition to this, note that a separate question has been provided for Visually Impaired candidates in lieu of questions having visual inputs, map etc. Such questions are to be attempted by Visually Impaired candidates only.*

### **SECTION A**

*Questions number **1 to 12** are Multiple Choice type questions, carrying **1** mark each.*

$$12 \times 1 = 12$$

**1.** Arrange the following events in the chronological order :

- (i) Soviet invasion of Afghanistan
- (ii) Russian Revolution
- (iii) End of Civil War in Tajikistan
- (iv) Fall of the Berlin Wall

Choose the correct option :

- (A) (i), (ii), (iii), (iv)
- (B) (ii), (i), (iv), (iii)
- (C) (iii), (iv), (i), (ii)
- (D) (iv), (iii), (ii), (i)



2. रूस के कौन-से दो गणराज्यों में हिंसक अलगाववादी आन्दोलन हुए थे ?  
 (A) चेचन्या और अज़रबैजान  
 (B) क्रोएशिया और उज़्बेकिस्तान  
 (C) चेचन्या और दागिस्तान  
 (D) दागिस्तान और क्रोएशिया
3. 'शक्ति सन्तुलन' में देशों से निम्नलिखित में से किसकी अपेक्षा होती है ?  
 (A) विशेष प्रकार के हथियार त्यागने की  
 (B) हथियारों को प्राप्त और विकसित करने की प्रक्रिया को नियमित करने की  
 (C) सैन्य हमले से रक्षा के लिए अपनी कार्रवाइयों में सहयोग बनाने की  
 (D) अन्य देशों के साथ अनुकूल संतुलन बनाने की
4. वे लोग क्या कहलाते हैं जो अपने घर-बार छोड़ के भाग जाते हैं लेकिन राष्ट्रीय सीमाओं के भीतर ही रहते हैं ?  
 (A) भगोड़े  
 (B) आप्रवासी  
 (C) आन्तरिक रूप से विस्थापित जन  
 (D) मूल निवासी
5. सूची I का सूची II से मिलान कीजिए और सही विकल्प का चयन कीजिए :

सूची I	सूची II
1. क्योटो प्रोटोकॉल	(i) विकासात्मक नियमाचार की सूची
2. बिजली अधिनियम 2003, भारत	(ii) पारिस्थितिक तंत्र के प्रति उत्तरदायित्व के साथ आर्थिक वृद्धि
3. एजेन्डा 21	(iii) ग्रीनहाउस गैसों के उत्सर्जन को कम करने का उद्देश्य
4. सतत पोषणीय विकास	(iv) नवीकरणीय ऊर्जा के प्रयोग को बढ़ावा देना

विकल्प :

- (A) 1-(iii), 2-(iv), 3-(i), 4-(ii)  
 (B) 1-(ii), 2-(iii), 3-(iv), 4-(i)  
 (C) 1-(iv), 2-(i), 3-(iii), 4-(ii)  
 (D) 1-(i), 2-(ii), 3-(iii), 4-(iv)

2. Which two republics of Russia have had violent secessionist movements ?

- (A) Chechnya and Azerbaijan
- (B) Croatia and Uzbekistan
- (C) Chechnya and Dagestan
- (D) Dagestan and Croatia

3. 'Balance of power' requires countries to \_\_\_\_\_.

- (A) give up certain kinds of weapons
- (B) regulate acquisition and development of weapons
- (C) coordinate their actions to defend against military attack
- (D) maintain a favourable balance with other countries

4. People who flee their homes but remain within national borders are called \_\_\_\_\_.

- (A) fugitives
- (B) migrants
- (C) internally displaced people
- (D) indigenous people

5. Match List I with List II and choose the correct option :

<i>List I</i>		<i>List II</i>
1. Kyoto Protocol	(i)	List of developmental practices
2. Electricity Act of 2003, India	(ii)	Economic growth with ecological responsibility
3. Agenda 21	(iii)	Aims to cut greenhouse gas emissions
4. Sustainable Development	(iv)	Encourages use of renewable energy

Options :

- (A) 1-(iii), 2-(iv), 3-(i), 4-(ii)
- (B) 1-(ii), 2-(iii), 3-(iv), 4-(i)
- (C) 1-(iv), 2-(i), 3-(iii), 4-(ii)
- (D) 1-(i), 2-(ii), 3-(iii), 4-(iv)

प्रश्न संख्या 6 के लिए, दो कथन दिए गए हैं — जिनमें एक को अभिकथन (A) तथा दूसरे को कारण (R) द्वारा अंकित किया गया है। इन कथनों को ध्यान से पढ़िए और नीचे दिए गए विकल्पों (A), (B), (C) और (D) में से उत्तर के रूप में सही विकल्प चुनिए।

6. अभिकथन (A) : वैश्विक रणनीति में तेल आज भी सबसे महत्वपूर्ण संसाधन बना हुआ है।

कारण (R) : तेल के साथ जुड़ी अपार सम्पदा से राजनीतिक संघर्ष पैदा होते हैं।

(A) अभिकथन (A) और कारण (R) दोनों सही हैं और कारण (R), अभिकथन (A) की सही व्याख्या करता है।

(B) अभिकथन (A) और कारण (R) दोनों सही हैं, परन्तु कारण (R), अभिकथन (A) की सही व्याख्या नहीं करता है।

(C) अभिकथन (A) सही है, परन्तु कारण (R) गलत है।

(D) अभिकथन (A) गलत है, परन्तु कारण (R) सही है।

7. 1952 में कौन-सी राजनीतिक पार्टी जम्मू और कश्मीर में सत्ता में आई थी ?

(A) भारतीय राष्ट्रीय कांग्रेस

(B) कश्मीर राष्ट्रीय कांग्रेस

(C) कम्युनिस्ट पार्टी ऑफ़ इन्डिया

(D) नेशनल कॉन्फ़ेरेंस

8. भारत का निर्वाचन आयोग किस वर्ष गठित किया गया था ?

(A) 1949

(B) 1950

(C) 1951

(D) 1952

9. दलाई लामा ने निम्नलिखित में से किस देश में राजनीतिक शरण प्राप्त की थी ?

(A) नेपाल

(B) भूटान

(C) भारत

(D) म्याँमार

*For Question number 6, two statements are given — one labelled as Assertion (A) and the other labelled as Reason (R). Read these statements carefully and choose the correct option as the answer from the options (A), (B), (C) and (D) given below.*

6. Assertion (A) : Oil continues to be the most important resource in global strategy.

Reason (R) : The immense wealth associated with oil generates political struggles.

- (A) Both Assertion (A) and Reason (R) are true and Reason (R) is the correct explanation of the Assertion (A).
- (B) Both Assertion (A) and Reason (R) are true, but Reason (R) is *not* the correct explanation of the Assertion (A).
- (C) Assertion (A) is true, but Reason (R) is false.
- (D) Assertion (A) is false, but Reason (R) is true.

7. Which political party came to power in Jammu and Kashmir in 1952 ?

- (A) Indian National Congress
- (B) Kashmir National Congress
- (C) Communist Party of India
- (D) National Conference

8. In which year was the Election Commission of India set up ?

- |          |          |
|----------|----------|
| (A) 1949 | (B) 1950 |
| (C) 1951 | (D) 1952 |

9. In which of the following countries did Dalai Lama obtain political asylum ?

- (A) Nepal
- (B) Bhutan
- (C) India
- (D) Myanmar

प्रश्न संख्या 10 के लिए, दो कथन दिए गए हैं — जिनमें एक को अभिकथन (A) तथा दूसरे को कारण (R) द्वारा अंकित किया गया है। इन कथनों को ध्यान से पढ़िए और नीचे दिए गए विकल्पों (A), (B), (C) और (D) में से उत्तर के रूप में सही विकल्प चुनिए।

10. अभिकथन (A) : 1979 में, ऑल असम स्टूडेंट्स यूनियन (AASU) ने बाहरी लोगों के विरुद्ध आन्दोलन का नेतृत्व किया।

कारण (R) : आन्दोलन अवैध आप्रवासियों तथा ग़लत मतदाता सूचियों के विरुद्ध था।

- (A) अभिकथन (A) और कारण (R) दोनों सही हैं और कारण (R), अभिकथन (A) की सही व्याख्या करता है।
- (B) अभिकथन (A) और कारण (R) दोनों सही हैं, परन्तु कारण (R), अभिकथन (A) की सही व्याख्या नहीं करता है।
- (C) अभिकथन (A) सही है, परन्तु कारण (R) ग़लत है।
- (D) अभिकथन (A) ग़लत है, परन्तु कारण (R) सही है।

11. गुटनिरपेक्ष आन्दोलन (NAM) का प्रथम शिखर सम्मेलन कहाँ आयोजित किया गया था ?

- (A) काहिरा
- (B) बेलग्रेड
- (C) भारत
- (D) इण्डोनेशिया

12. 'खासी हिल्स' (पहाड़ियाँ) भारत के किस राज्य में स्थित हैं ?

- (A) मेघालय
- (B) मणिपुर
- (C) मिज़ोरम
- (D) त्रिपुरा



*For Question number 10, two statements are given — one labelled as Assertion (A) and the other labelled as Reason (R). Read these statements carefully and choose the correct option as the answer from the options (A), (B), (C) and (D) given below.*

10. Assertion (A) : In 1979, the All Assam Students' Union (AASU) led an anti-foreigner movement.

Reason (R) : The movement was against illegal migrations and against faulty voters' lists.

- (A) Both Assertion (A) and Reason (R) are true and Reason (R) is the correct explanation of the Assertion (A).
- (B) Both Assertion (A) and Reason (R) are true, but Reason (R) is **not** the correct explanation of the Assertion (A).
- (C) Assertion (A) is true, but Reason (R) is false.
- (D) Assertion (A) is false, but Reason (R) is true.

11. The first summit of NAM was held in :

- (A) Cairo
- (B) Belgrade
- (C) India
- (D) Indonesia

12. In which state of India are the 'Khasi Hills' located ?

- (A) Meghalaya
- (B) Manipur
- (C) Mizoram
- (D) Tripura

### खण्ड ख

13. पूर्वी पाकिस्तान में 1970 के चुनावों में, किस राजनीतिक पार्टी ने किस नेता के नेतृत्व में सभी सीटों पर विजय प्राप्त की थी ? 2
14. वैश्विक सुरक्षा का अर्थ स्पष्ट कीजिए । 2
15. प्रथम पंचवर्षीय योजना की कोई दो विशेषताएँ उजागर कीजिए । 2
16. 1952 में भारत में हुआ आम चुनाव क्यों पूरे विश्व में लोकतन्त्र के इतिहास के लिए मील का एक पत्थर बन गया ? स्पष्ट कीजिए । 2
17. अन्तर्राष्ट्रीय मानदंडों और संस्थाओं को मजबूती प्रदान करने से किस प्रकार भारत ने अपने सुरक्षा हितों की रक्षा की है ? स्पष्ट कीजिए । 2
18. केन्द्र में गठबंधन सरकार के किन्हीं दो लाभों का आकलन कीजिए । 2

### खण्ड ग

19. 1971 में बांग्लादेश युद्ध की ओर ले जाने वाली परिस्थितियों का वर्णन कीजिए । 4
20. सोवियत संघ के विघटन के कोई दो कारण स्पष्ट कीजिए । 4
21. (क) पाकिस्तान के साथ भारत के सम्बन्धों को बेहतर बनाने के लिए कोई दो उपाय सुझाइए । 4

#### अथवा

- (ख) भारत और चीन के बीच सम्बन्ध सुधारने के लिए कोई दो उपाय सुझाइए । 4
22. (क) वैश्वीकरण के लिए उत्तरदायी किन्हीं दो कारणों को उजागर कीजिए । 4

#### अथवा

- (ख) वैश्वीकरण के कोई दो सकारात्मक प्रभाव उजागर कीजिए । 4
23. “क्षेत्रीय आकांक्षाओं से निपटने का सबसे अच्छा तरीका दमन के बजाय लोकतान्त्रिक ढंग से बातचीत करना है ।” उदाहरण देकर कथन की पुष्टि कीजिए ।

## SECTION B

13. Which political party won all the seats in the 1970 elections in East Pakistan and under whose leadership ? 2
14. Explain the meaning of Global Security. 2
15. Highlight any two features of the First Five Year Plan. 2
16. Why did India's general elections of 1952 become a landmark in the history of democracy all over the world ? Explain. 2
17. How has the strengthening of international norms and international institutions helped India protect its security interests ? Explain. 2
18. Assess any two advantages of coalition governments at the Centre. 2

## SECTION C

19. Describe the circumstances that led to the Bangladesh War in 1971. 4
20. Explain any two reasons for the disintegration of the Soviet Union. 4
21. (a) Suggest any two measures to improve India's relations with Pakistan. 4

**OR**

- (b) Suggest any two measures to improve Indo-China relations. 4
22. (a) Highlight any two causes of globalisation. 4

**OR**

- (b) Highlight any two positive effects of globalisation. 4
23. "The best way to respond to regional aspirations is through democratic negotiations rather than through suppression." Justify the statement with examples. 4

खण्ड घ

24. निम्नलिखित अवतरण को ध्यानपूर्वक पढ़िए और नीचे दिए गए प्रश्नों के उत्तर दीजिए :  $4 \times 1 = 4$

भारत का विचार है कि ग्रीनहाउस गैसों के उत्सर्जन को कम करने की मुख्य जिम्मेवारी विकसित देशों की है, जिन्होंने एक लम्बे समय तक बहुत ज्यादा उत्सर्जन किया है। भारत ने ध्यान दिलाया कि विकासशील देशों में ग्रीनहाउस गैसों की प्रति व्यक्ति उत्सर्जन दर विकसित देशों की तुलना में नाममात्र है।

- (i) भारत ने क्योटो प्रोटोकॉल पर हस्ताक्षर तथा इसका अनुमोदन कब किया था ?
- (A) अगस्त 2000 (B) अगस्त 2001  
(C) अगस्त 2002 (D) अगस्त 2003
- (ii) कुछ विकासशील देशों को क्योटो प्रोटोकॉल की बाध्यताओं से छूट क्यों दी गई थी ?
- (A) वे पारिस्थितिकी तंत्र के अनुकूल प्रौद्योगिकी विकसित करने में अग्रणी थे।  
(B) वे कुछ अन्य देशों को स्वच्छ प्रौद्योगिकियों को अपनाने में सहायता कर रहे थे।  
(C) उन्होंने पहले से ही नवीकरणीय ऊर्जा को प्रयोग करने के कार्यक्रम शुरू कर दिए थे।  
(D) ग्रीनहाउस गैसों के उत्सर्जन में उनका योगदान नाममात्र का था।
- (iii) 'पृथ्वी सम्मेलन' कहाँ आयोजित हुआ था ?
- (A) पेरिस (B) रियो डी जनेरियो  
(C) क्योटो (D) माँट्रियल
- (iv) निम्नलिखित में से कौन-सा एक 'वैश्विक सम्पदा' का उदाहरण है ?
- (A) ग्रेट बैरियर रीफ (B) महाखड्ड (ग्रैंड कैनियन)  
(C) बाहरी अंतरिक्ष (D) सहारा मरुस्थल



## SECTION D

24. Read the following passage carefully and answer the questions that follow :

4×1=4

India is of the view that the major responsibility of curbing emission of greenhouse gases rests with the developed countries, which have accumulated emissions over a long period of time. India pointed out that the per capita emission rates of the developing countries are a tiny fraction of those in the developed world.

- (i) India signed and ratified the Kyoto Protocol in :
- (A) August 2000 (B) August 2001  
(C) August 2002 (D) August 2003
- (ii) Why were some developing countries exempted from the requirements of the Kyoto Protocol ?
- (A) They were pioneers in developing eco-friendly technology.  
(B) They were assisting some other countries to adopt clean technologies.  
(C) They had already launched renewable energy programmes.  
(D) Their contribution to emission of greenhouse gases was insignificant.
- (iii) Where was the 'Earth Summit' held ?
- (A) Paris (B) Rio de Janeiro  
(C) Kyoto (D) Montreal
- (iv) Which one of the following is an example of 'Global Commons' ?
- (A) The Great Barrier Reef (B) The Grand Canyon  
(C) The Outer Space (D) The Sahara Desert

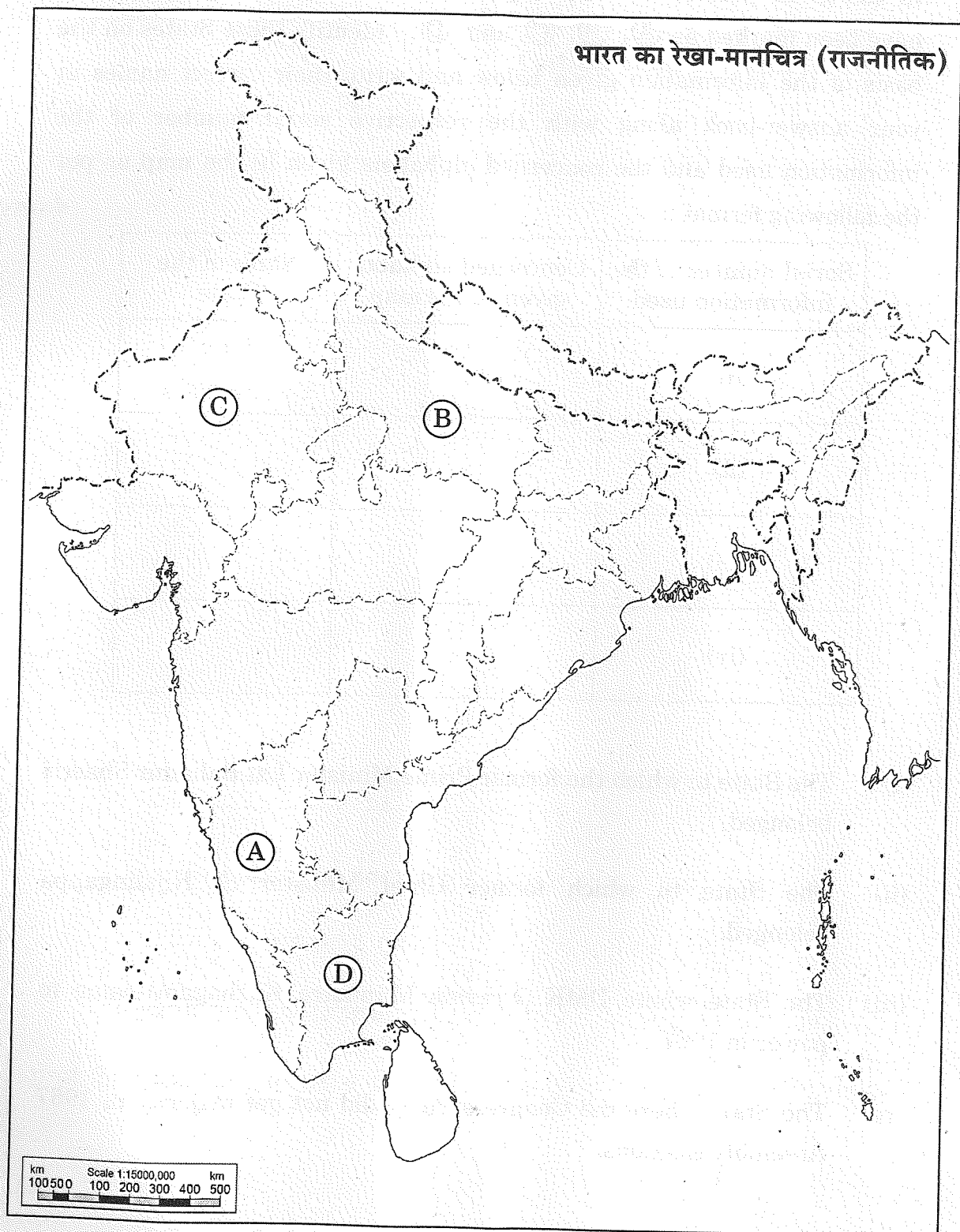
25. भारत के दिए गए राजनीतिक रेखा-मानचित्र (पृष्ठ 15 पर) में चार राज्यों को ①, ②, ③ तथा ④ के द्वारा अंकित किया गया है। नीचे दी गई जानकारी के आधार पर इन राज्यों की पहचान कीजिए और अपनी उत्तर-पुस्तिका में इनके सही नाम, प्रयोग की गई जानकारी की क्रम-संख्या तथा मानचित्र में दिया गया संबंधित अक्षर, नीचे दी गई तालिका के रूप में लिखिए :

4×1=4

प्रयोग की गई जानकारी की क्रम-संख्या	मानचित्र में दिया गया संबंधित अक्षर	राज्य का नाम
(i)		
(ii)		
(iii)		
(iv)		

- (i) वह राज्य जिससे पूर्व प्रधानमंत्री लाल बहादुर शास्त्री का सम्बन्ध था।
- (ii) वह राज्य जिससे पूर्व मुख्यमंत्री एस. निजलिंगप्पा का सम्बन्ध था।
- (iii) वह राज्य जहाँ 1967 में डीएमके (द्रविड़ मुन्नेत्र कणगम) पार्टी सत्ता में आई।
- (iv) वह राज्य जहाँ 1967 के विधानसभा चुनावों में कांग्रेस पार्टी को बहुमत नहीं मिली थी।

प्रश्न सं. 25 के लिए



25. In the given political outline map of **India** (on page 17), four States have been marked as (A), (B), (C) and (D). Identify these States on the basis of the information given below and write their correct names in your answer-book along with the respective serial number of the information used and the concerned alphabets given in the map as per the following format :

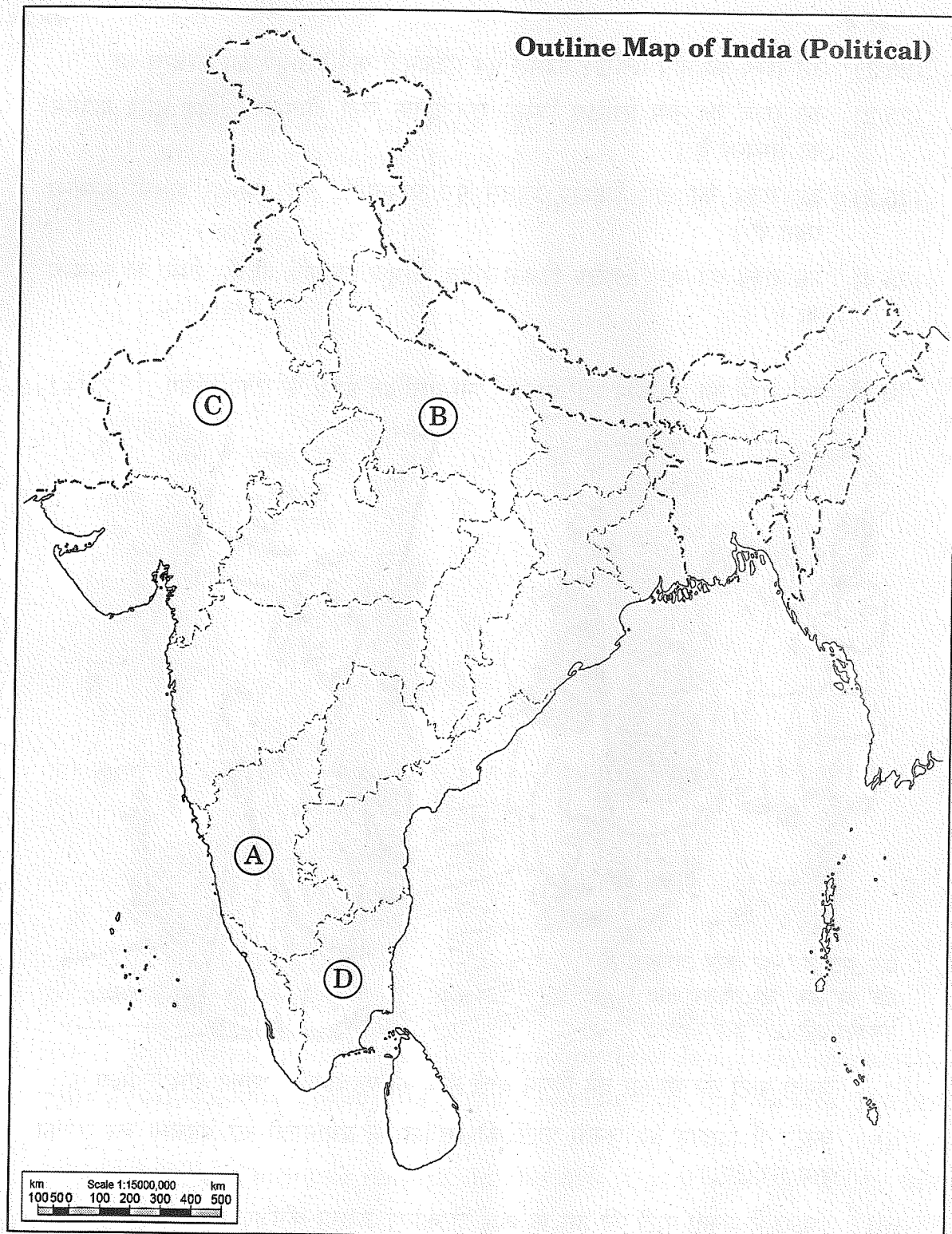
4×1=4

Serial number of the information used	Concerned alphabet given in the map	Name of the State
(i)		
(ii)		
(iii)		
(iv)		

- (i) The State to which the former Prime Minister Lal Bahadur Shastri belonged.
- (ii) The State to which former Chief Minister S. Nijalingappa belonged.
- (iii) The State where DMK (Dravida Munnetra Kazhagam) came to power in 1967.
- (iv) The State where the Congress Party did not get majority in 1967 Assembly elections.



For question no. 25



**नोट:** निम्नलिखित प्रश्न केवल दृष्टिबाधित परीक्षार्थियों के लिए प्रश्न संख्या 25 के स्थान पर हैं :

4×1=

- (25.1) उस राज्य का नाम लिखिए जिससे पूर्व मुख्यमंत्री कर्पूरी ठाकुर का सम्बन्ध था ।
- (25.2) उस राज्य का नाम लिखिए जिससे राजनीतिक पार्टी डीएमके (द्रविड़ मुन्नेत्र कषगम) का सम्बन्ध है ।
- (25.3) उस राज्य का नाम लिखिए जिससे पूर्व प्रधानमंत्री लाल बहादुर शास्त्री सम्बन्ध रखते थे ।
- (25.4) उस राज्य का नाम लिखिए जिससे भारत के पूर्व राष्ट्रपति वी.वी. गिरि का सम्बन्ध था ।

**26.** नीचे दिए गए कार्टून का अध्ययन कीजिए और निम्नलिखित प्रश्नों के उत्तर दीजिए : 1+1+2=



यह झूठ है ! हर कोई जानता है  
कि हम सभी ने दो वर्ष तक  
मेहनत की और इसे गिराया !


- (i) जनता पार्टी की सरकार को गिराने वाले नेता को पहचानकर उसका नाम लिखिए ।
- (ii) कार्टून में दिखाए गए जनता पार्टी की सरकार के प्रधानमंत्री को पहचान कर उसका नाम लिखिए ।
- (iii) 1980 में जनता पार्टी की हार के कोई दो कारण उजागर कीजिए ।

**Note :** The following questions are for the **Visually Impaired Candidates** only, in lieu of Q. No. 25 :

4×1=4

- (25.1) Name the state to which the former Chief Minister Karpoori Thakur belonged.
- (25.2) Name the state to which the political party DMK (Dravida Munnetra Kazhagam) belongs.
- (25.3) Name the state to which the former Prime Minister Lal Bahadur Shastri belonged.
- (25.4) Name the state to which the former President of India V.V. Giri belonged.

**26.** Study the cartoon given below and answer the questions that follow : 1+1+2=4



- (i) Identify and name the leader who toppled the Janata Government.
- (ii) Identify and name the Prime Minister of the Janata Party Government shown in the cartoon.
- (iii) Highlight any two reasons for the defeat of the Janata Party in 1980.

नोट: निम्नलिखित प्रश्न केवल दृष्टिबाधित परीक्षार्थियों के लिए प्रश्न संख्या 26 के स्थान पर हैं :

2+1+1=4

- (26.1) 1977 के आम चुनावों में कांग्रेस पार्टी की हार के किन्हीं दो कारणों को उजागर कीजिए ।
- (26.2) 1977 के आम चुनावों में विजय प्राप्त करने वाली राजनीतिक पार्टी का नाम लिखिए ।
- (26.3) 1980 के चुनावों में कांग्रेस पार्टी की जीत से पहले भारत के प्रधानमंत्री का नाम लिखिए ।

#### खण्ड ड

27. (क) यूरोपीय संघ को एक प्रभावशाली क्षेत्रीय संगठन बनाने वाले किन्हीं चार कारकों का विश्लेषण कीजिए ।

अथवा

- (ख) “आसियान बहुत तेज़ी से एक महत्वपूर्ण क्षेत्रीय संगठन के रूप में बढ़ रहा है ।” कथन को न्यायोचित ठहराइए ।

28. (क) उन आधारों की व्याख्या कीजिए जिनके बल पर भारत संयुक्त राष्ट्र सुरक्षा परिषद् में स्थायी सदस्यता प्राप्त करने का दावा करता है ।

अथवा

- (ख) संयुक्त राष्ट्र महासभा द्वारा 1992 में संयुक्त राष्ट्र सुरक्षा परिषद् में सुधार लाने के लिए स्वीकृत प्रस्ताव में दर्ज तीन मुख्य शिकायतों की व्याख्या कीजिए ।

29. (क) भारतीय संघ में सभी देसी रियासतों का विलय करवाने में भारत के सामने आई कठिनाइयों का वर्णन कीजिए ।

अथवा

- (ख) हैदराबाद रियासत को भारतीय संघ में विलय की ओर ले जाने वाले घटनाक्रम का वर्णन कीजिए ।



**Note :** The following questions are for the **Visually Impaired Candidates** only, in lieu of Q. No. 26 :

2+1+1=4

- (26.1) Highlight any two reasons for the defeat of the Congress Party in the general elections of 1977.
- (26.2) Name the political party that won the general elections in 1977.
- (26.3) Name the Prime Minister of India before the Congress Party won the elections in 1980.

### SECTION E

27. (a) Analyse any four factors that make the European Union an influential regional organisation. 6

**OR**

- (b) "ASEAN is rapidly growing into a very important regional organisation." Justify the statement. 6

28. (a) Explain the grounds on the basis of which India seeks to become a permanent member of the UN Security Council. 6

**OR**

- (b) Explain the three main complaints reflected in the resolution adopted by the UN General Assembly in 1992 to reform the UN Security Council. 6

29. (a) Describe the difficulties faced by India to get the merger of all the Princely States into the Union of India. 6

**OR**

- (b) Describe the events that led to the accession of Hyderabad into the Union of India. 6

30. (क) भारतीय राजनीति में 1989 और उसके बाद घटी किन्हीं चार मुख्य घटनाओं का वर्णन कीजिए ।

6

अथवा

(ख) भारत की अधिकांश राजनीतिक पार्टियों में उभरी आम सहमति के किन्हीं तीन मुद्दों का वर्णन कीजिए ।

6

30. (a) Describe any four major developments in Indian politics since 1989. 6

**OR**

- (b) Describe any three issues on which a general consensus has emerged among most of the political parties of India. 6